



Curso	Asignatura	Eje	OA
4°	Historia	Historia	OA 4

GUÍA DE APRENDIZAJE N° 13 ORGANIZACIÓN SOCIAL DE LOS MAYAS, AZTECAS E INCAS” Primer Semestre 2020



Nombre : _____


Curso : _____ Fecha: ____ / ____ / ____

Instrucciones:

- Recuerda tener tu estuche y libros antes de trabajar.
- Desarrolla la guía en un lugar tranquilo y sin distracciones.
- Lee atentamente la pregunta y luego responde.

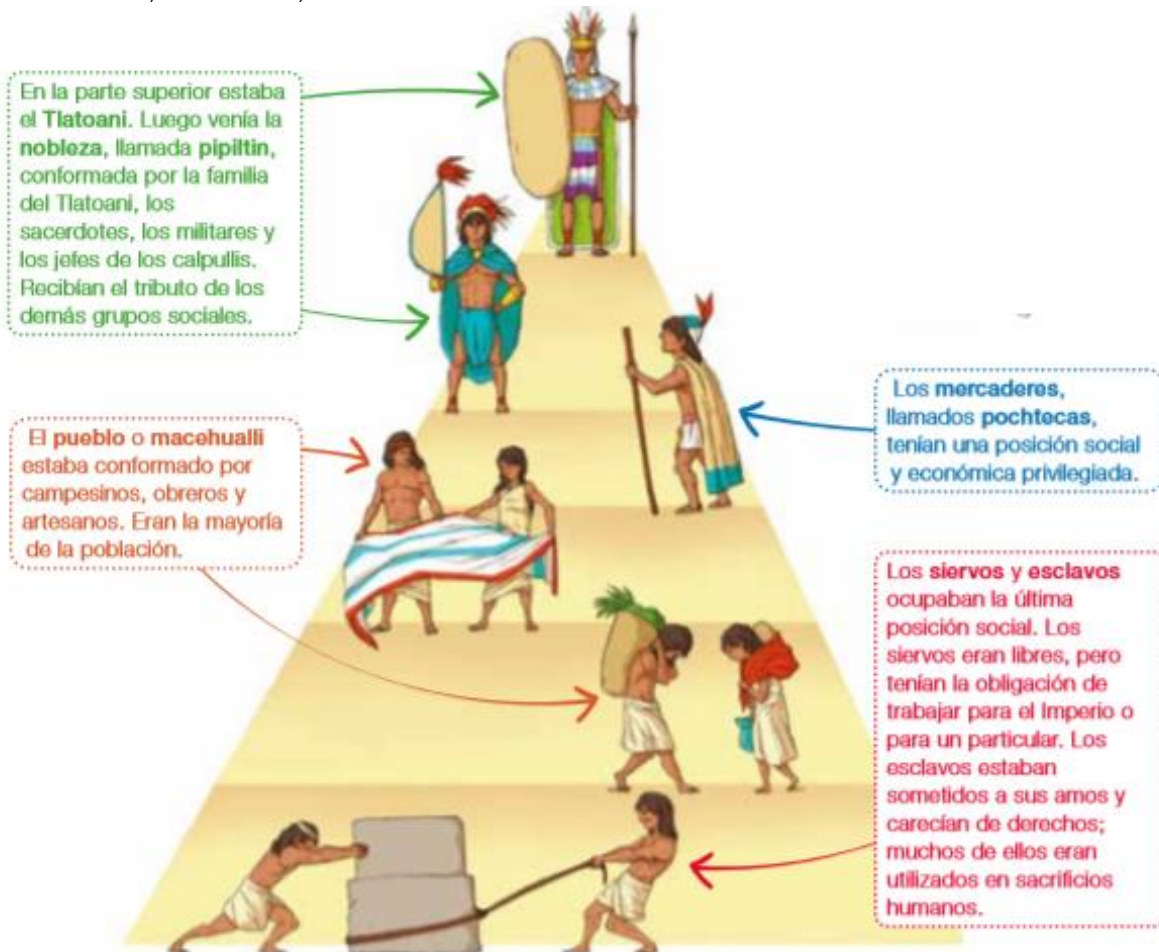
Organización social de los mayas

La sociedad maya era jerárquica, es decir, se encontraba dividida en distintos grupos sociales, cada uno con funciones específicas. Su organización era piramidal, en donde el Ahau se situaba en la posición más alta y de mayor poder, mientras que en la parte inferior se ubicaban los grupos sin privilegios. En consecuencia, existían grandes diferencias entre los distintos grupos.



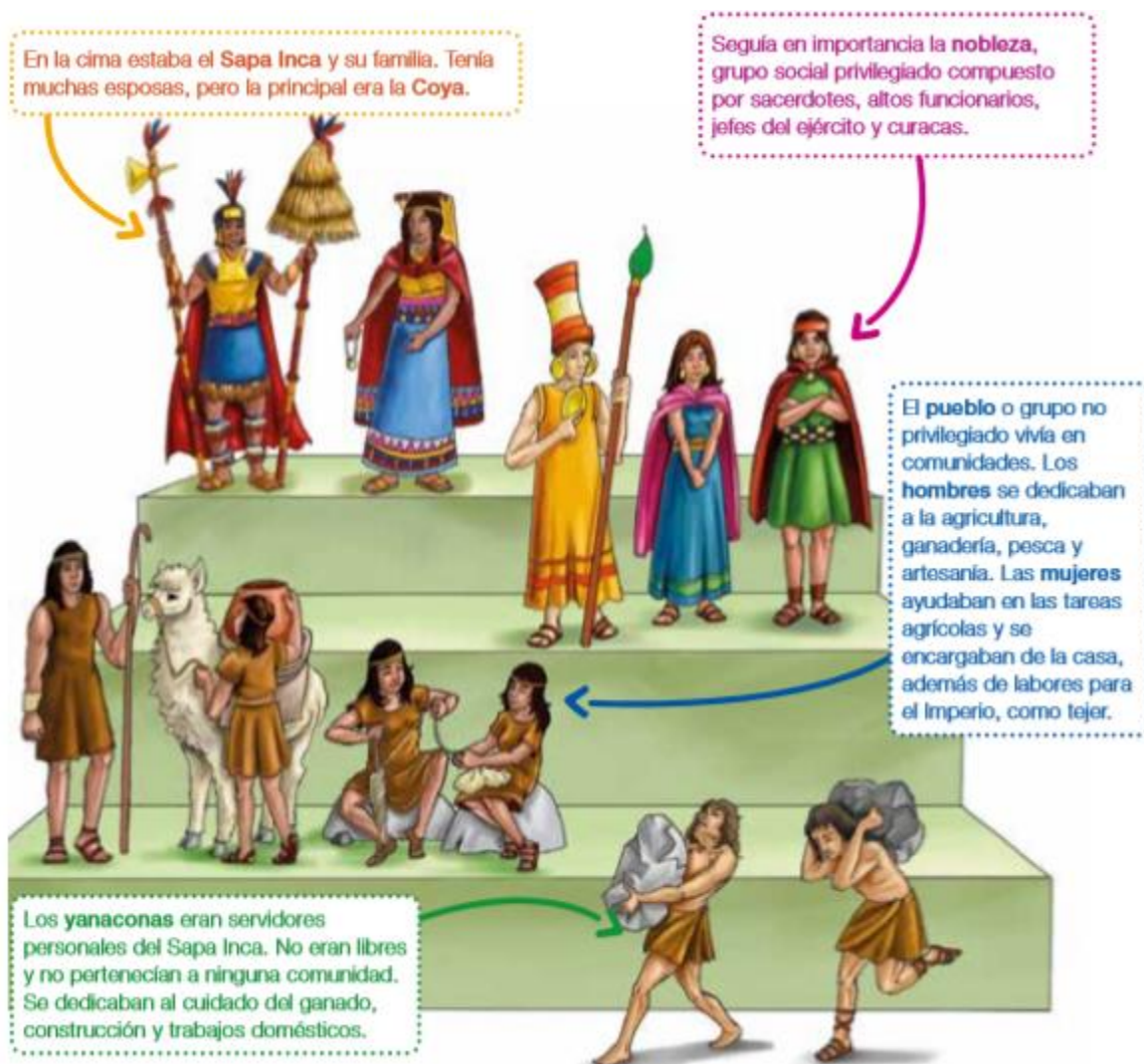
La organización social de los aztecas

La sociedad azteca, al igual que la maya, estaba fuertemente jerarquizada, es decir, existían diferentes grupos sociales y había mucha diferencia entre ellos. Las leyes aztecas dictaban lo que cada hombre y cada mujer de los diferentes grupos sociales podían o no podían hacer. Si no se cumplían estas leyes los habitantes del Imperio se arriesgaban a serios castigos e incluso a la muerte.



La organización social de los incas

Tal como los mayas y aztecas, la sociedad inca era **jerarquizada**, es decir, había grandes diferencias entre los distintos grupos sociales en cuanto a sus roles y privilegios. Estaba organizada de forma piramidal, donde el Sapa Inca estaba en la cima, mientras que en la base se encontraba el grupo no privilegiado, que era la mayoría de la población.





ACTIVIDAD

1. ¿Qué características tienen en común las tres civilizaciones con respecto a la organización social?

- a) Las tres civilizaciones se organizaron en sociedades democráticas.
- b) Las tres civilizaciones se organizaron en sociedades lineales.
- c) Las tres civilizaciones se organizaron en sociedades jerárquicas y piramidales.
- d) Las tres civilizaciones se organizaron en sociedades anarquistas.

2. ¿Cuál de las siguientes opciones es correcta en relación con la sociedad maya?

- a) Era una sociedad jerarquizada y piramidal.
- b) No tenían personas dedicadas a la religión.
- c) Era una sociedad igualitaria en la cual no había distinciones.
- d) Todos los grupos sociales debían pagar impuestos o tributos.

3. ¿Qué grupo social maya no tenía libertad?

- a) Los nobles.
- b) Los esclavos.
- c) Los sacerdotes
- d) Los campesinos.

4. ¿Cuál de las siguientes opciones muestra el grupo social de los mayas se ubicaba por debajo de la nobleza?

- a) Los esclavos.
- b) Los sacerdotes.
- c) Los campesinos.
- d) La familia del Ahau.

Observa la imagen, lee la explicación que la acompaña, y luego responde la pregunta.



El edificio cilíndrico que se aprecia en la fotografía era utilizado como observatorio astronómico. Está ubicado en la ciudad de Chichén Itzá.

5. ¿Qué sector de la sociedad maya se dedicaba a las observaciones astronómicas?

- a) Los escribas.
- b) Los sacerdotes.
- c) Los ingenieros.
- d) Los gobernantes.

6. A partir del esquema de la organización social de los aztecas, ¿cuál de los siguientes grupos sociales no debía pagar tributo?

- a) El pueblo.
- b) La nobleza.
- c) Los siervos.
- d) Los mercaderes.



7. A partir del esquema de la organización social de los aztecas, ¿quiénes eran los pochtecas?

- a) Los nobles.
- b) Los siervos.
- c) Los sacerdotes.
- d) Los comerciantes.

Observa la imagen y luego responde.



8. ¿A qué sector de la sociedad azteca pertenece el personaje de la imagen?

- a) Al pueblo.
- b) A la aristocracia.
- c) Al de los esclavos.
- d) Al de los pueblos sometidos.

Observa la imagen y luego responde la pregunta.



9. Según la imagen, ¿qué grupo social azteca aparece recibiendo el pago de tributos?

- a) Los esclavos.
- b) El pueblo.
- c) La nobleza.
- d) Los siervos.

10. ¿Cómo se llamaba el grupo social de los incas que ocupa la base de la pirámide social?

- a) Pueblo.
- b) Nobleza.
- c) Yanaconas.
- d) Funcionarios.




11. ¿Quiénes ocupaban el primer escalón de la pirámide social de los incas, situado en la parte superior?

- a) El Sapa Inca y su familia.
- b) La servidumbre o yanaconas.
- c) La nobleza y los funcionarios.
- d) Los hombres y mujeres del pueblo.

12. En la sociedad inca, ¿quiénes trabajaban la tierra?

- a) Los esclavos.
- b) Los integrantes del ayllu.
- c) Los miembros del ejército.
- d) Los individuos de los pueblos sometidos.

Observa la imagen y luego responde.



13. ¿A qué grupo de la sociedad inca pertenecen las personas representadas en la imagen?

- a) Al pueblo.
- b) A los esclavos.
- c) A la aristocracia.
- d) A los comerciantes.