



Curso	Asignatura	Eje	OA
4°	Matemática	MEDICIÓN	OA 22

GUÍA DE APRENDIZAJE N° 17 “UNIDADES DE MEDIDAS DE LONGITUD” Primer Semestre 2020



Nombre : _____
 Curso : _____
 Fecha : ____/____/____

Instrucciones:

- Recuerda tener tu estuche y libros antes de trabajar.
- Desarrolla la guía en un lugar tranquilo y sin distracciones.
- **Para realizar la guía puedes utilizar la huincha de la página 347 de tu libro. (Recortable)**

ESTIMAR LA LONGITUD DE OBJETOS

Estimar es indicar una cifra cercana de una cantidad que se desconoce. Puedes guiarte por referentes, por ejemplo, para medir el largo de un libro se puede utilizar como referencia una goma de borrar que mide 5 cm y sobreponerla sobre el libro para ver cuántas veces lo contiene.

ACTIVIDAD

Sigue las instrucciones y realiza la siguiente actividad. Luego responde las preguntas.

- Consigue una huincha para medir o una regla.
- Elige dos objetos de tu casa y escribe sus nombres en la tabla que está a continuación.
- Estima las medidas de los objetos y anótalas.
- Mide los objetos con la huincha o la regla y escribe las medidas reales en la tabla.

Objeto	Medida estimada	Medida real

a) ¿Qué unidad de medida de longitud utilizaste? _____.

b) ¿Tus estimaciones se acercaron a las medidas reales? Explica.

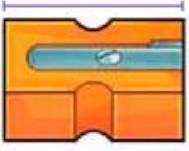



EL METRO Y EL CENTÍMETRO

Para medir longitudes puedes utilizar unidades de medida estandarizadas, como el centímetro (cm) o el metro (m).



ACTIVIDAD


✍ Remarca el recuadro con la unidad de medida que consideres más adecuada para medir la longitud de los siguientes objetos.

<p>a.</p>  <p>Sacapuntas</p>	<p>cm</p> <p>m</p>	<p>c.</p>  <p>Casa</p>	<p>cm</p> <p>m</p>
<p>b.</p>  <p>Automóvil</p>	<p>cm</p> <p>m</p>	<p>d.</p>  <p>Llave</p>	<p>cm</p> <p>m</p>

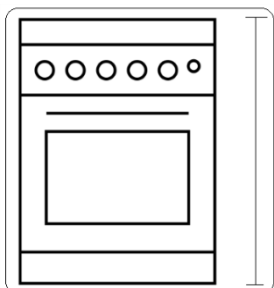
✍ Remarca el recuadro con la unidad de medida que consideres más adecuada para medir las siguientes longitudes.

a. El largo de un puente.	metros	centímetros
b. El largo de tu cuaderno.	metros	centímetros
c. El alto de un poste.	metros	centímetros


✍ Usa una huincha para medir los siguientes objetos de tu casa. Utiliza la unidad de medida más adecuada. **Puedes utilizar la huincha de la página 347 de tu libro. (Recortable)**



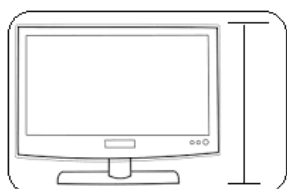
Mide:



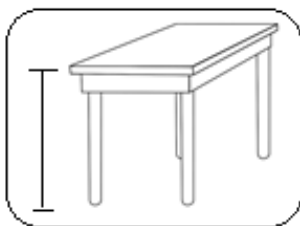
Mide:



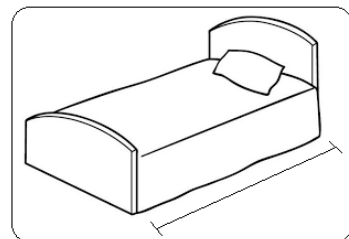
Mide:



Mide:



Mide:



Mide:

Puedes trabajar en tu libro página 266 y 267.