



Guía de Trabajo n°1, Matemática, 2°básico
“Conteo”, Primer Semestre 2020

Nombre : _____
Curso : _____
Fecha : _____ de marzo del 2020

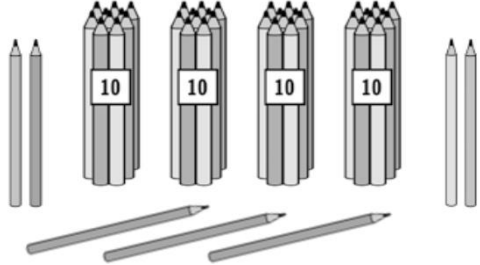
Objetivo:

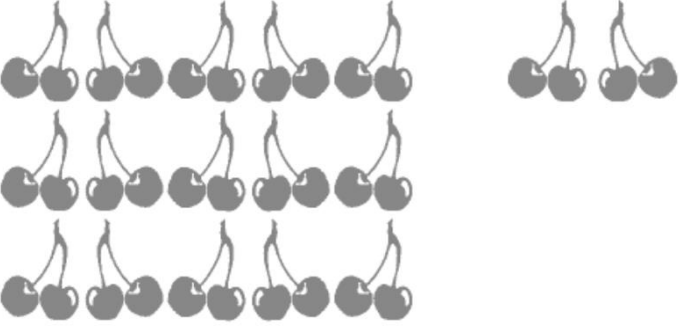
OA 2: Leer números del 0 al 100 y representarlos en forma concreta, pictórica y simbólica.


Instrucciones:

- **Escucha con atención las instrucciones de tu profesora.**
- **Utiliza lápiz mina y goma, cuando sea necesario lápices de colores.**

1. Lee las siguientes actividades y escribe la cantidad en cada respuesta.
 Debes contar todos los objetos de cada ejercicio.

<p>¿Cuántos lápices hay? Expresa la cantidad usando las tarjetas numéricas.</p> <p>Respuesta: Hay lápices.</p>	
---	---

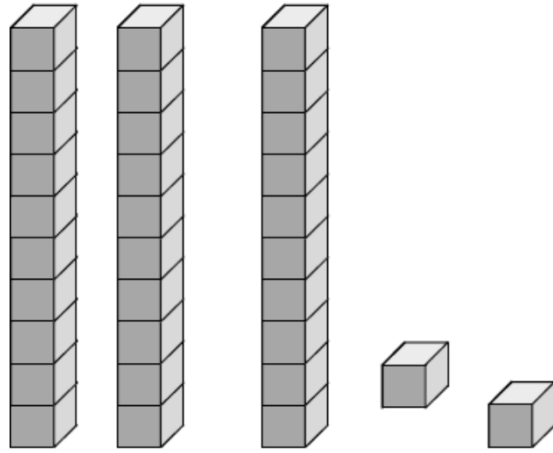
<p>¿Cuántas guindas hay?</p> <p>Respuesta: Hay guindas.</p>	
---	--

<p>Diego tiene esta caja llena de lápices y además algunos sueltos.</p> <p>¿Cuántos lápices tiene Diego?</p> <p>Respuesta: Diego tiene lápices.</p>	
--	--



¿Cuántos cubos hay?

Respuesta: Hay cubos.



Calcula:

$10 + 5 =$	$20 + 6 =$	$30 + 4 =$
$30 + 7 =$	$40 + 1 =$	$40 + 9 =$